

PARCOURS ORIENTATION



LES THUILES

Partez à la découverte de l'histoire de la commune des Thuiles, une carte à la main



LA COMMUNE





Le village des Thuiles tire son nom d'anciennes fabriques de poteries. Ce village à flanc de montagne fait face à la **Grande Séolane**, sommet emblématique de la vallée de l'Ubaye.

Commune des Thuiles
WWW.LESTHUILES.FR

À travers ce parcours d'orientation, partez à la découverte de son **patrimoine culturel** entre chapelle, moulin et cadrans solaires, au fil de ses ruelles.

RECOMMANDATIONS

Il est de la responsabilité du pratiquant d'estimer ses capacités à pratiquer la course d'orientation sur cet espace.

-  **Soyez vigilant**
Prenez garde à la circulation, surveillez vos enfants
-  **Soyez discrets**
Votre itinéraire passe à proximité des habitations
-  **Respectez l'environnement**
Ne laissez pas traîner vos déchets
-  **En cas d'urgence**
Appelez le **18** ou le **112**

SCANNEZ ICI



UN PROBLÈME SUR LE PARCOURS ?
(BALISE MANQUANTE, SÉCURITÉ, ...)



PARCOURS MIS EN PLACE PAR **GEODEZIC**
WWW.GEODEZIC.FR



BALISE 41

Coude de chemin

11 FAUNE DE LA VALLÉE

Tu t'en doutes, un magnifique endroit comme celui-ci ne plait pas qu'aux humains. On retrouve ici un grand nombre des animaux de la montagne.

CEPENDANT, PARMIS CES TROIS ANIMAUX, LEQUEL (À NOTRE CONNAISSANCE) N'EST-IL PAS POSSIBLE DE VOIR DANS LA VALLÉE ?

- a** LE LOUP **b** LE LYNX **c** LE RENARD

BALISE 42

Croix

12 GRANDE SÉOLANE

Tu as face à toi une superbe vue sur le massif des Trois-Évêchés. Au loin, il y a un sommet en forme de dent plus haut que les autres, c'est la Grande Séolane, un des plus hauts sommets du massif.

AS-TU UNE IDÉE DE L'ALTITUDE À LAQUELLE IL CULMINE ?

- a** 4 810 M **b** 535 M **c** 2 909 M



BALISE 43

Extrémité barrière

13 ÉGLISE SAINT-MARTIN + CADRAN SOLAIRE

Tu te trouves actuellement devant l'église Saint-Martin, ce magnifique monument date du début du 16^{ème} siècle. Tu as aussi la chance de voir un cadran solaire.

SAIS-TU À QUOI CELA SERVAIT DANS LE TEMPS ?

- a** À MESURER LA DURÉE D'UNE JOURNÉE
- b** À INDIQUER L'HEURE EN FONCTION DE LA POSITION DU SOLEIL
- c** À PRÉDIRE LES ÉCLIPSES SOLAIRES
- d** À DÉTERMINER LA DIRECTION DU VENT


BALISE 44

Angle propriété privée

14 THÈME LIBRE

Le savais-tu, à l'intérieur de ce village se cache un magnifique objet classé au monument historique. C'est un objet très ancien datant du 18^{ème} siècle.

SAURAS-TU LE RETROUVER PARMIS CES TROIS OBJETS ?



BALISE 45

Fontaine

15 FONTAINE JEAN PROAL

Tu es devant la fontaine Jean Proal, une personne célèbre née en 1904 à côté d'ici à Seyne.

IL ÉTAIT CONNU CAR C'ÉTAIT :

- a** UN SCULPTEUR **b** UN ÉCRIVAIN **c** UN PEINTRE

A	B	C	D	E	F	G	H	I	J	K	L	M
27	46	13	19	52	8	35	50	11	42	7	25	57
N	O	P	Q	R	S	T	U	V	W	X	Y	Z
30	1	44	53	38	2	41	15	56	31	59	20	12

52 · 13 · 38 · 11 · 56 · 27 · 11 · 25

RÉPONSES

- 1 La truite 2 Aquatique (eau) 3 La rivière 4 Pélerin 5 B 6 Pélerin 7 Le mouton 8 Un évangéliste 9 Loccitan 10 Gypète barbu 11 Le lynx 12 2909 m 13 Indiquer l'heure en fonction du soleil 14 Un cadran solaire 15 Un écrivain

COMMENT ÇA MARCHE ?

- 01** Depuis le départ (Δ), choisissez votre itinéraire pour vous rendre à la 1^{ère} balise.
- 02** Poinçonnez votre dépliant dans la case correspondante grâce à la pince rouge emboîtée dans la balise.
- 03** Prenez connaissance du contenu patrimonial et répondez à la question. Vérifiez vos réponses en bas du dépliant.



PARCOURS D'ORIENTATION

DIFFICULTÉ EN ORIENTATION : ●●● Facile
NIVEAU PHYSIQUE : ●●● Intermédiaire

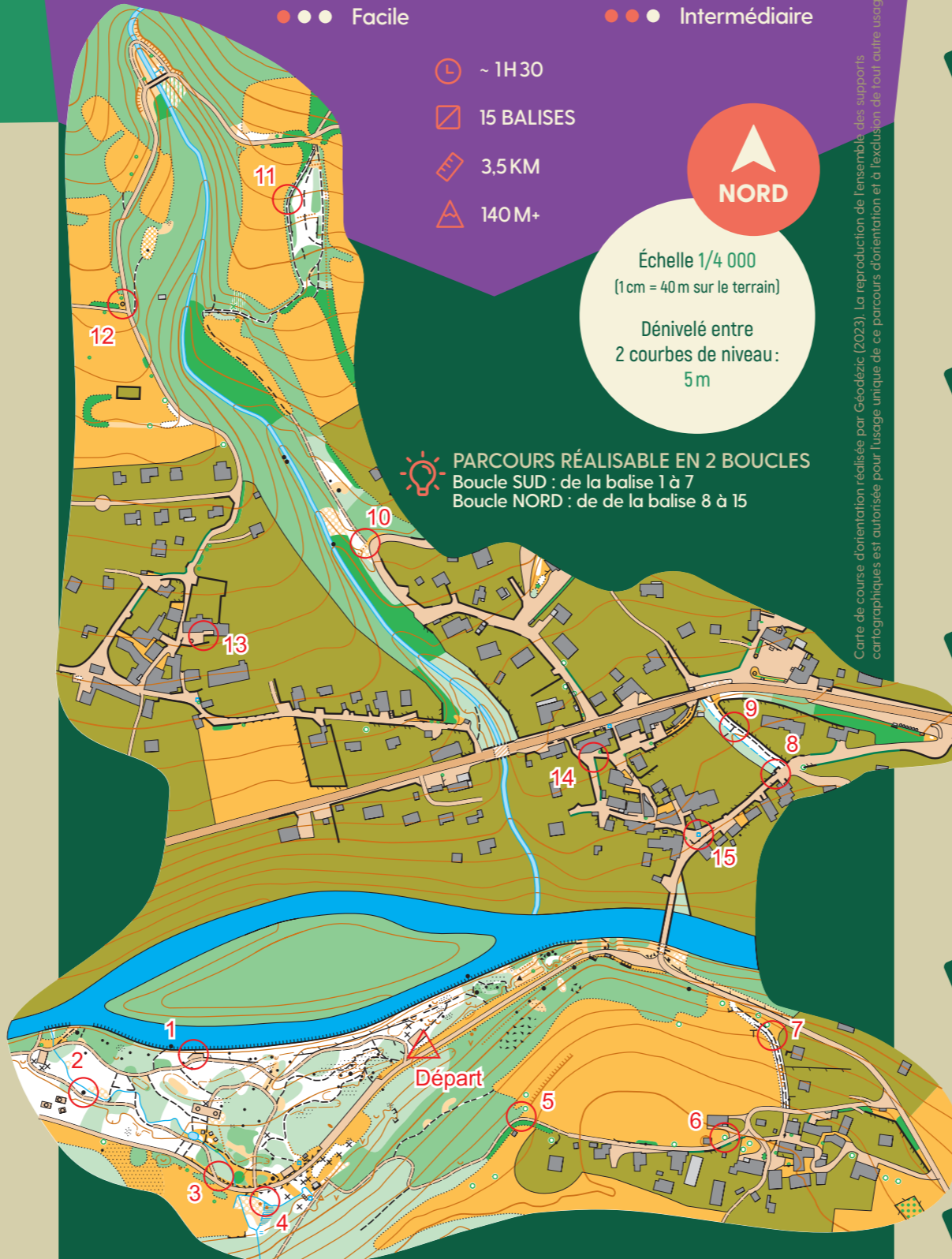
- 🕒 ~ 1H30
- 📏 15 BALISES
- 📏 3,5 KM
- ⚠️ 140 M+



Échelle 1/4 000
(1cm = 40 m sur le terrain)
Dénivelé entre 2 courbes de niveau : 5 m

💡 PARCOURS RÉALISABLE EN 2 BOUCLES
Boucle SUD : de la balise 1 à 7
Boucle NORD : de de la balise 8 à 15

Carte de course d'orientation réalisée par Géodézic (2023). La reproduction de l'ensemble des supports cartographiques est autorisée pour l'usage unique de ce parcours d'orientation et à l'exclusion de tout autre usage.



LÉGENDE

- 🏠 BÂTIMENT
- 🌊 COURS D'EAU
- 🛣️ ZONE BITUMÉE
- 🚫 ZONE INTERDITE (PRIVÉE)
- 🌳 ZONE DÉCOUVERTE
- 🌿 FORÊT TRAVERSÉE FACILE
- 🌲 VÉGÉTATION DENSE
- 🛤️ CHEMIN
- 🌳 ARBRE REMARQUABLE
- ROCHER
- 📏 COURBE DE NIVEAU

05 MÉLÈZE

Tu es devant un arbre majestueux, le mélèze, l'essence d'arbre majoritairement présente dans la région. La particularité de ce résineux est qu'il perd ses aiguilles à l'automne. PEUX-TU NOUS DIRE LESQUELLES DE CES AIGUILLES LUI APPARTIENNENT ?



BALISE 35

Angle du champ

06 CHAPELLE DES GUERINS (SAINT-OURS)

La chapelle Saint-Ours que tu peux observer en ce moment même porte le nom d'un pèlerin Ecossois, Saint-Ours d'Aoste. Il a vécu quelque temps dans cette vallée afin d'évangéliser ses habitants, avant de continuer son voyage vers Rome.

SAURAS-TU RETROUVER LE NOM QUE L'ON DONNE À CES PERSONNES RÉALISANT UN VOYAGE RELIGIEUX ?



BALISE 36

Arbre remarquable

07 PASTORALISME

En te baladant dans les alentours tu auras l'occasion de rencontrer de nombreux animaux, élevés pour leur lait, leur viande, leur laine.

MAIS SAIS-TU QUEL EST L'ANIMAL LE PLUS PRÉSENT ET QUE TU AS LE PLUS DE CHANCE DE VOIR DANS LA VALLÉE ?

- a LE COCHON
- b LE CHEVAL
- c LE MOUTON
- d LA VACHE

BALISE 37

Coude de chemin

08 ORATOIRE SAINT-MARC

Tu es actuellement devant l'oratoire Saint-Marc. Cette petite bâtisse est un lieu consacré à la prière pour invoquer la protection divine.

MAIS SAIS-TU QUI EST SAINT-MARC ?

- a UN ÉCRIVAIN
- b UN ÉVANGÉLISTE
- c LE PREMIER HABITANT DE CE VILLAGE

BALISE 38

Chapelle

09 ÉTYMOLOGIE NOM COMMUNE

Comme tu le sais déjà, nous sommes actuellement dans le village des Thuiles. Son origine vient de Tegulis, un mot désignant les tuiles ou bien les briques.

SAIS-TU DE QUELLE ORIGINE PROVIENT CE NOM ?

- a L'OCCITAN
- b LE BRETON
- c LE CORSE

BALISE 39

Intersection de chemins

10 RAPACE À BARBE

Considéré longtemps, à tort, comme une créature démoniaque, il est le plus grand rapace d'Europe. Sa spécialité ? Lâcher un os depuis le ciel pour qu'il se fracasse sur la roche, pour pouvoir le manger.

CONNAIS-TU CET ANIMAL RÉINTRODUIT DANS LA RÉGION EN 1993 ?



BALISE 40

Intersection route chemin

BALISE 31

Barrière

01 RIVIÈRE UBAYE

Tu te retrouves face à l'Ubaye, la rivière qui traverse ce village. Ce cours d'eau passe également par 12 autres communes avant de se jeter dans le grand lac de Serre-Ponçon, c'est une rivière riche en vie. PARMIS CES POISSONS, LEQUEL PEUX-TU RETROUVER DANS L'UBAYE ?

- a LA TRUITE
- b LE SILURE
- c LA TANCHE

BALISE 32

Rocher

02 PIN SYLVESTRE

Tu es dans une belle forêt d'arbres qui possèdent des toutes petites feuilles que l'on appelle aiguilles. On dit d'eux qu'ils sont persistants car ils ne perdent pas leurs feuilles à l'automne contrairement à la majorité des autres arbres. Les aiguilles du pin sylvestre sont réunies par petites « grappes ». L'une des façons de reconnaître cet arbre est de compter le nombre d'aiguilles formant une « grappe ».

COMBIEN EN COMPTES-TU ?

- a 2
- b 5
- c 10

BALISE 33

Intersection route chemin

03 ANCIENNE SCIERIE

Plein sud dans le champ, tu devines un mur en pierre. Ce sont les vestiges d'une ancienne scierie, qui servait autrefois à couper le bois du village.

GRÂCE À QUELLE ÉNERGIE LE BOIS ÉTAIT-IL COUPÉ ?

- a AQUATIQUE (EAU)
- b ÉOLIENNE (VENT)
- c ANIMAL (CHEVAL, BŒUF)

BALISE 34

Intersection ruisseau

04 PLAINE ALLUVIALE

Comme tu l'auras sans doute remarqué, la rivière coule ici au milieu d'une forêt dont le relief est bien plat par rapport aux pentes des montagnes alentours.

SELON TOI, QU'EST-CE QUI A PU APLANIR LE SOL COMME CELA ?

- a LES AGRICULTEURS, QUI ONT APLATI LA MONTAGNE POUR Y VIVRE
- b LES ANIMAUX, QUI ONT PIÉTINÉ LA MONTAGNE À FORCE DE VENIR BOIRE
- c LA RIVIÈRE, QUI A CREUSÉ LA MONTAGNE AU FIL DES ANNÉES